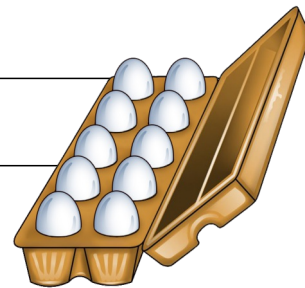


## Sachaufgaben 23a



1. Der Bauer hat 60 Eier.

Er verpackt sie in 10er Schachteln. Wie viele Schachteln werden voll?

R :																										
A :																										

2. Der Bauer hat 80 Eier. Er verpackt sie in 10er Schachteln. Wie viele Schachteln werden voll?

R :																										
A :																										


3. Der Bauer hat 47 Eier. Er verpackt sie in 10er Schachteln. Wie viele Schachteln werden voll? Wie viele Eier bleiben übrig?

R :																										
A :																										

4. Der Bauer hat 92 Eier. Er verpackt sie in 10er Schachteln. Wie viele Schachteln werden voll? Wie viele Eier bleiben übrig?

R :																										
A :																										

# Sachaufgaben 23b



1. Der Bauer hat 60 Eier.  
Er verpackt sie in 6er Schachteln. Wie viele Schachteln werden voll?

R :																			
A :																			

2. Der Bauer hat 54 Eier. Er verpackt sie in 6er Schachteln. Wie viele Schachteln werden voll?

R :																			
A :																			

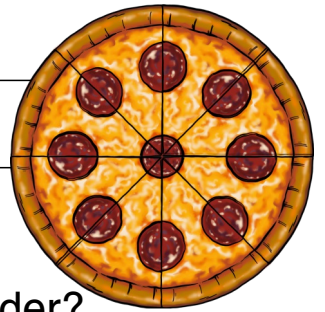
3. Der Bauer hat 47 Eier. Er verpackt sie in 6er Schachteln. Wie viele Schachteln werden voll? Wie viele Eier bleiben übrig?

R :																			
A :																			

4. Der Bauer hat 37 Eier. Er verpackt sie in 6er Schachteln. Wie viele Schachteln werden voll? Wie viele Eier bleiben übrig?

R :																			
A :																			

## Sachaufgaben 24a



1. Mama macht Pizza. Sie schneidet sie in 8 Stücke.  
Wie viele Stücke bekommt jedes der 4 Familienmitglieder?

R :																
A :																

2. Mama macht 2 Pizzen. Sie schneidet jede in 8 Stücke.  
Wie viele Stücke bekommt jedes der 4 Familienmitglieder?

R :																
A :																

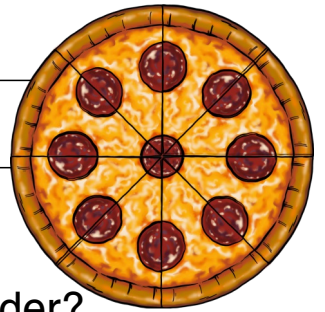
3. Mama macht für eine Party 5 Pizzen. Sie schneidet jede in 8 Stücke. Wie viele Stück Pizza gibt das?

R :																
A :																

4. Mama macht für eine Party 8 Pizzen. Sie schneidet jede in 8 Stücke. Wie viele Stück Pizza gibt das?

R :																
A :																

## Sachaufgaben 24b



1. Mama macht Pizza. Sie schneidet sie in 12 Stücke.  
Wie viele Stücke bekommt jedes der 4 Familienmitglieder?

R :																				
A :																				

2. Mama macht 2 Pizzen. Sie schneidet jede in 12 Stücke.  
Wie viele Stücke bekommt jedes der 4 Familienmitglieder?

R :																				
A :																				


3. Mama macht für eine Party 3 Pizzen. Sie schneidet jede in 8  
Stücke. Wie viele Stück Pizza gibt das?

R :																				
A :																				

4. Mama macht für eine Party 6 Pizzen. Sie schneidet jede in 8  
Stücke. Wie viele Stück Pizza gibt das?

R :																				
A :																				

## Sachaufgaben 25a



1. Susi isst gerne Eis. Eine Kugel kostet 1,20 €.  
Susi möchte 2 Kugeln essen. Wie viel muss sie bezahlen?

R :																				
A :																				

2. Susi isst gerne Eis. Eine Kugel kostet 1,20 €.  
Susi möchte 4 Kugeln essen. Wie viel muss sie bezahlen?

R :																				
A :																				

3. Susi isst gerne Eis. Eine Kugel kostet 1,30 €.  
Susi möchte 3 Kugeln essen. Wie viel muss sie bezahlen?


R :																				
A :																				

4. Susi isst gerne Eis. Eine Kugel kostet 1,50 €.  
Susi möchte 2 Kugeln essen. Wie viel muss sie bezahlen?

R :																				
A :																				



## Sachaufgaben 26a



1. Oma hat ein Gemüsebeet. Sie pflanzt 4 Reihen Salat. In jeder Reihe sind 5 Köpfe. Wie viele Salat ist das?

R :																				
A :																				

2. Oma hat ein Gemüsebeet. Sie pflanzt 5 Reihen Salat. In jeder Reihe sind 6 Köpfe. Wie viele Salat ist das?

R :																				
A :																				


3. Oma hat ein Gemüsebeet. Sie pflanzt 8 Reihen Salat. In jeder Reihe sind 3 Köpfe. Wie viele Salat ist das?

R :																				
A :																				

4. Oma hat ein Gemüsebeet. Sie pflanzt 13 Reihen Salat. In jeder Reihe sind 10 Köpfe. Wie viele Salat ist das?

R :																				
A :																				

## Sachaufgaben 26b



1. Oma hat ein Gemüsebeet. Sie pflanzt 14 Reihen Salat. In jeder Reihe sind 5 Köpfe. Wie viele Salat ist das?

R :																			
A :																			

2. Oma hat ein Gemüsebeet. Sie pflanzt 35 Reihen Salat. In jeder Reihe sind 6 Köpfe. Wie viele Salat ist das?

R :																			
A :																			

3. Oma hat ein Gemüsebeet. Sie pflanzt 28 Reihen Salat. In jeder Reihe sind 3 Köpfe. Wie viele Salat ist das?

R :																			
A :																			

4. Oma hat ein Gemüsebeet. Sie pflanzt 132 Reihen Salat. In jeder Reihe sind 5 Köpfe. Wie viele Salat ist das?

R :																			
A :																			



# Sachaufgaben 27a



1. Sarah kauft ein Regal für 299 €. Sie bezahlt mit einem 500€ Schein. Wie viel bekommt sie zurück?

R :																		
A :																		

2. Sarah kauft einen Schrank für 499 €. Sie bezahlt mit einem 500€ Schein. Wie viel bekommt sie zurück?

R :																		
A :																		

3. Sarah kauft ein Regal für 189 €. Sie bezahlt mit einem 500€ Schein. Wie viel bekommt sie zurück?

R :																		
A :																		

4. Sarah kauft einen Schrank für 599 €. Sie bezahlt mit zwei 500€ Scheinen. Wie viel bekommt sie zurück?

R :																		
A :																		

## Sachaufgaben 27b



1. Sarah kauft eine Waschmaschine für 299 €.

Sie bezahlt mit einem 500€ Schein. Wie viel bekommt sie zurück?

R :																											
A :																											

2. Sarah kauft eine Waschmaschine für 398 €.

Sie bezahlt mit einem 500€ Schein. Wie viel bekommt sie zurück?

R :																											
A :																											

3. Sarah kauft eine Waschmaschine für 699 €.

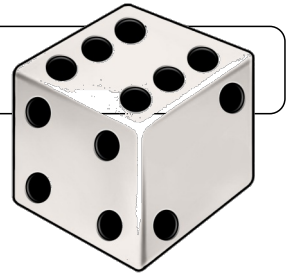
Sie bezahlt mit zwei 500€ Scheinen. Wie viel bekommt sie zurück?

R :																											
A :																											

4. Sarah will zwei Waschmaschinen für je 299 € kaufen. Wie viel muss sie bezahlen?

R :																											
A :																											

# Sachaufgaben 28a



1. Leo würfelt 5mal eine Sechs.  
Wie viele Augen hat er gewürfelt?

R :																				
A :																				

2. Leo würfelt 3mal eine Vier.  
Wie viele Augen hat er gewürfelt?

R :																				
A :																				

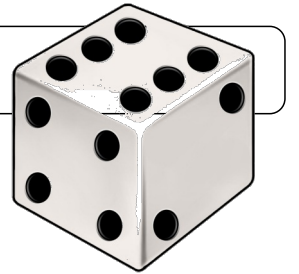
3. Leo würfelt 2mal eine Sechs und 3mal eine Zwei.  
Wie viele Augen hat er gewürfelt?

R :																				
A :																				

4. Leo würfelt 3mal eine Fünf, 2mal eine Vier und 3mal eine Zwei.  
Wie viele Augen hat er gewürfelt?

R :																				
A :																				

## Sachaufgaben 28b



1. Leo hat 3mal die gleiche Zahl gewürfelt.  
Er hat 15 Augen gezählt. Welche Zahl hat er gewürfelt?

R :																			
A :																			

2. Leo hat 4mal die gleiche Zahl gewürfelt.  
Er hat 24 Augen gezählt. Welche Zahl hat er gewürfelt?

R :																			
A :																			

3. Leo hat 7mal die gleiche Zahl gewürfelt.  
Er hat 21 Augen gezählt. Welche Zahl hat er gewürfelt?


R :																			
A :																			

4. Leo hat 9mal die gleiche Zahl gewürfelt.  
Er hat 36 Augen gezählt. Welche Zahl hat er gewürfelt?

R :																			
A :																			



## Sachaufgaben 29b



1. Monster Molli hat 4 Arme.

Wie viele Arme haben 10 solche Monster?

R :																					
A :																					

2. Monster Molli hat 4 Arme.

Wie viele Arme haben 15 solche Monster?

R :																					
A :																					

3. Monster Molli hat 4 Arme.

Wie viele Arme haben 85 solche Monster?

R :																					
A :																					

4. Monster Molli hat 4 Arme.

Wie viele Arme haben 219 solche Monster?

R :																					
A :																					







## Sachaufgaben 30b



1. In der Schatztruhe sind 880 Goldstücke. Sie werden gerecht zwischen 8 Matrosen aufgeteilt. Wieviel bekommt jeder?

R :																				
A :																				

2. In der Schatztruhe sind 720 Goldstücke. Sie werden gerecht zwischen 9 Matrosen aufgeteilt. Wieviel bekommt jeder?

R :																				
A :																				

3. In der Schatztruhe sind 496 Goldstücke. Sie werden gerecht zwischen 4 Matrosen aufgeteilt. Wieviel bekommt jeder?

R :																				
A :																				

4. In der Schatztruhe sind 750 Goldstücke. Sie werden gerecht zwischen 5 Matrosen aufgeteilt. Wieviel bekommt jeder?

R :																				
A :																				